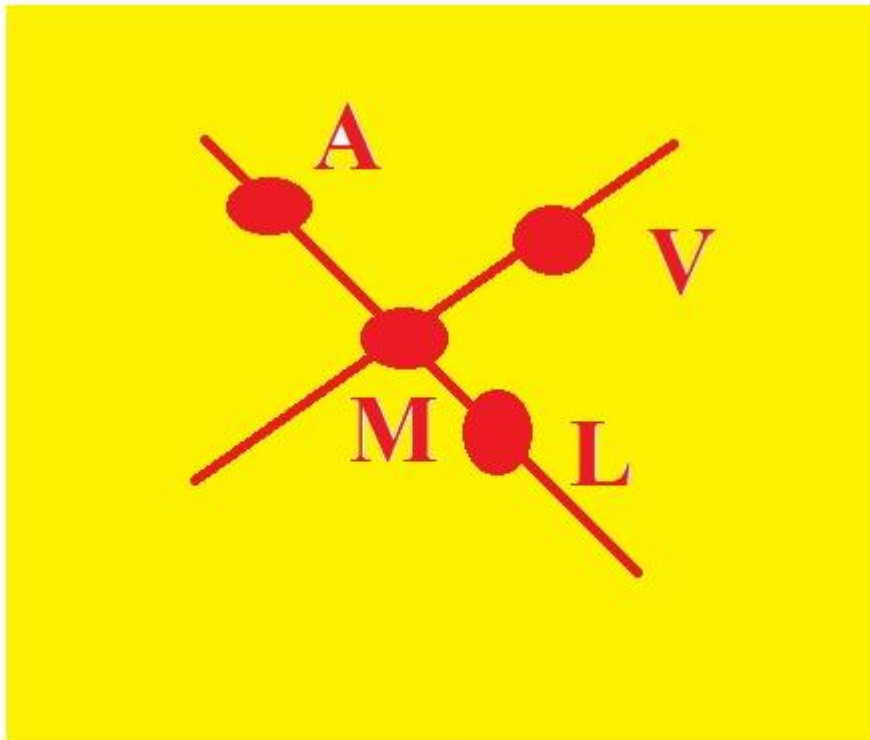


Заєць Б.Б. учениця 11-го класу Білоцерківське навчально-виховне об'єднання ЛІЦЕЙ- Мала Академія Наук
вчитель математики Заєць Богдан Петрович
Білоцерківська загальноосвітня школа І-ІІІ ступенів № 7 ІМЕНІ ГЕНЕРАЛ-ПОЛКОВНИКА ГЕННАДІЯ ВОРОБІЙОВА Білоцерківської міської ради Київської області

Методична розробка. Тестові завдання для 5-го класу (Площина. Пряма. Промінь.)



Вкажіть координату точки E (ввести число):

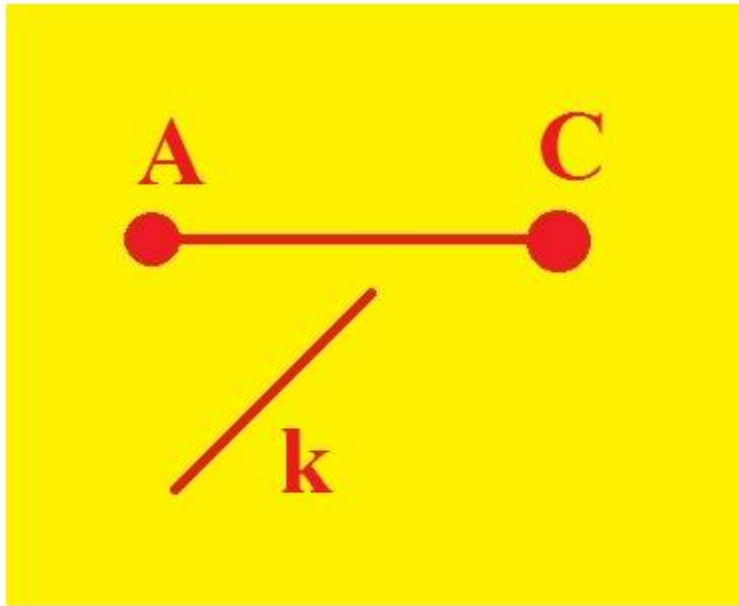


Вкажіть кількість відрізків (ввести число):

Заєць Б.Б. учениця 11-го класу Білоцерківське навчально-виховне об'єднання ЛІЦЕЙ- Мала Академія Наук

вчитель математики Заєць Богдан Петрович

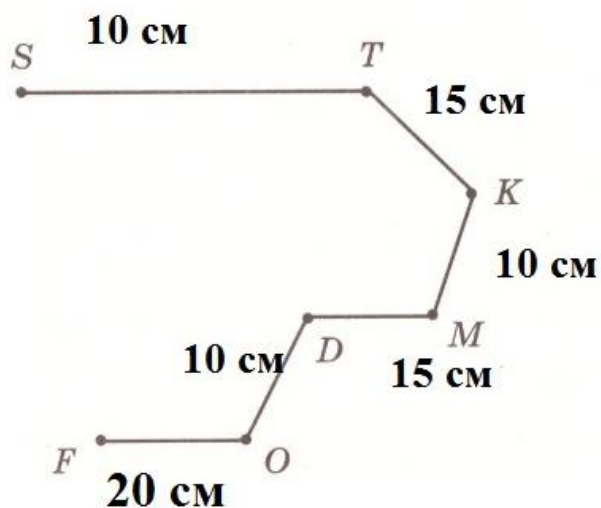
Білоцерківська загальноосвітня школа І-ІІІ ступенів № 7 ІМЕНІ ГЕНЕРАЛ-ПОЛКОВНИКА ГЕННАДІЯ ВОРОБІЙОВА Білоцерківської міської ради Київської області



Відрізок AC та пряма k перетинаються?

☐ ТАК

☐ НІ



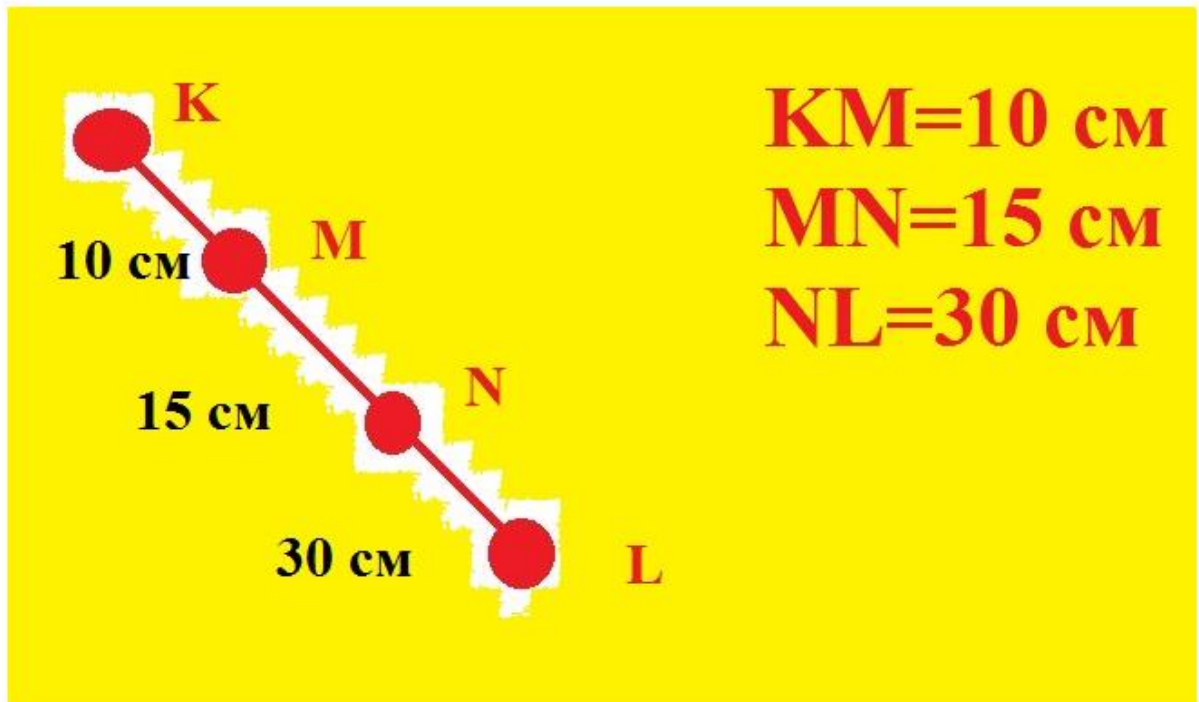
ST=10 см
TK=15 см
KM=10 см
MD=15 см
DO=10 см
FO=20 см

Обчисліть довжину ламаної (ввести число):

Заєць Б.Б. учениця 11-го класу Білоцерківське навчально-виховне об'єднання ЛІЦЕЙ- Мала Академія Наук

вчитель математики Заєць Богдан Петрович

Білоцерківська загальноосвітня школа І-ІІІ ступенів № 7 ІМЕНІ ГЕНЕРАЛ-ПОЛКОВНИКА ГЕННАДІЯ ВОРОБІЙОВА Білоцерківської міської ради Київської області

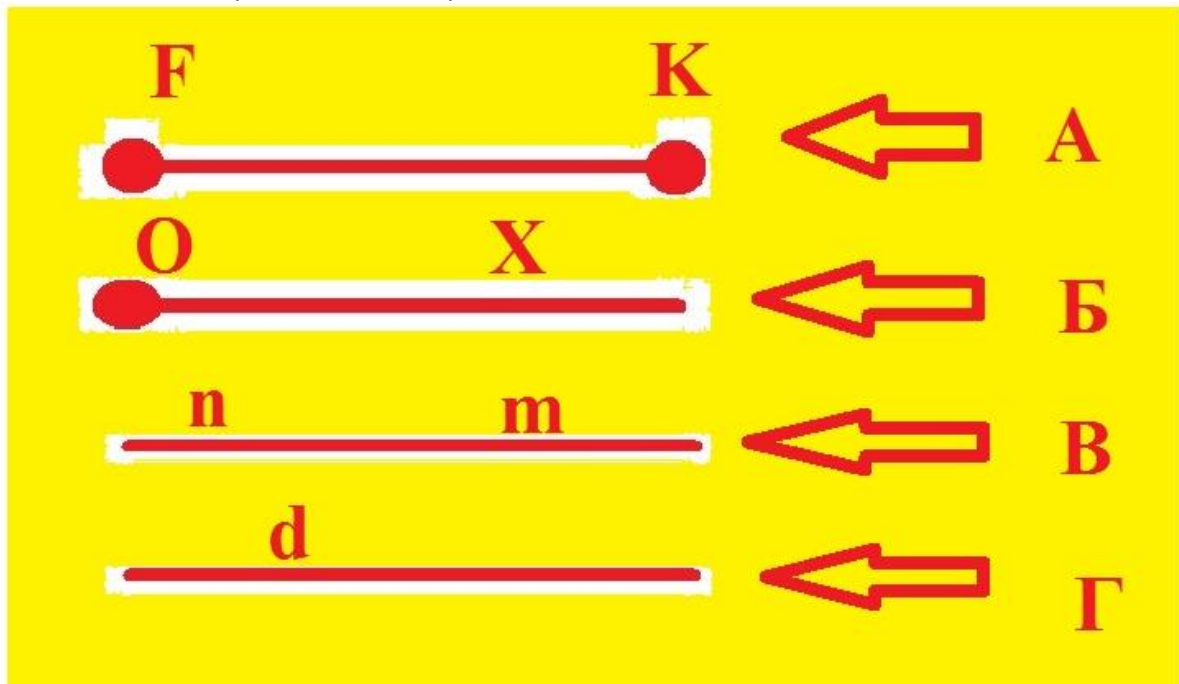


Обчисліть довжину відрізка KL (ввести число):

Заєць Б.Б. учениця 11-го класу Білоцерківське навчально-виховне об'єднання ЛІЦЕЙ- Мала Академія Наук

вчитель математики Заєць Богдан Петрович

Білоцерківська загальноосвітня школа І-ІІІ ступенів № 7 ІМЕНІ ГЕНЕРАЛ-ПОЛКОВНИКА ГЕННАДІЯ ВОРОБІЙОВА Білоцерківської міської ради Київської області



Вкажіть пряму:

☐ А

☐ Б

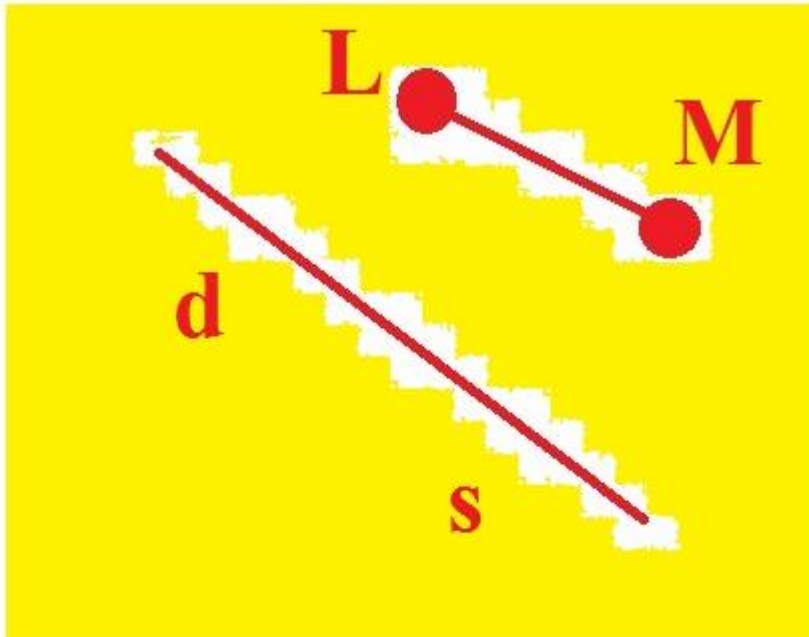
☐ Г

☐ В

Заєць Б.Б. учениця 11-го класу Білоцерківське навчально-виховне об'єднання ЛІЦЕЙ- Мала Академія Наук

вчитель математики Заєць Богдан Петрович

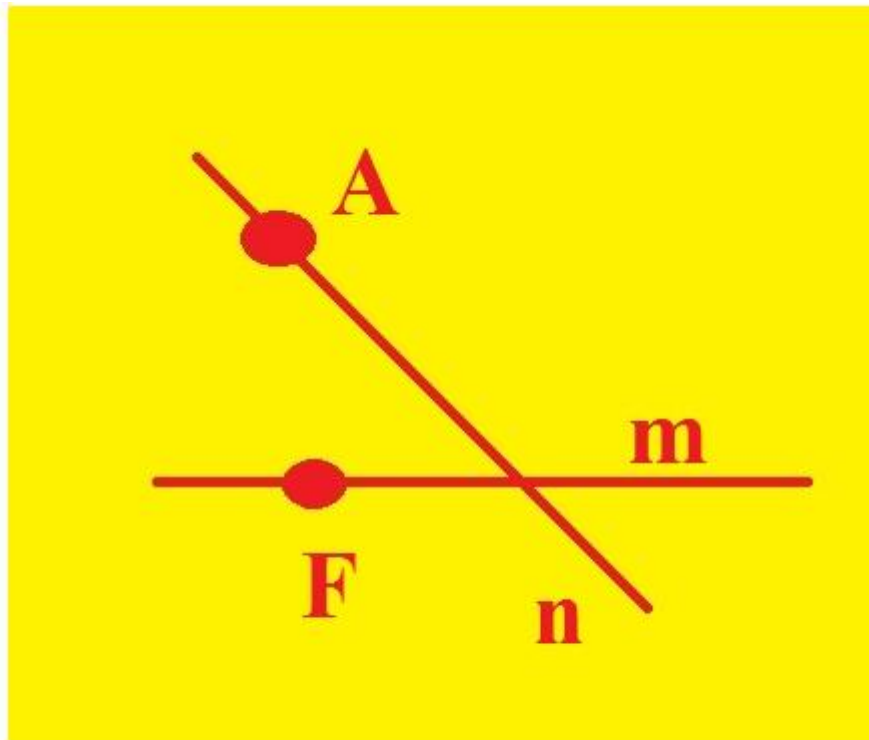
Білоцерківська загальноосвітня школа І-ІІІ ступенів № 7 ІМЕНІ ГЕНЕРАЛ-ПОЛКОВНИКА ГЕННАДІЯ ВОРОБІЙОВА Білоцерківської міської ради Київської області



Відрізок LM та пряма ds перетинаються?

☐ ТАК

☐ НІ



Вкажіть кількість променів (ввести число):

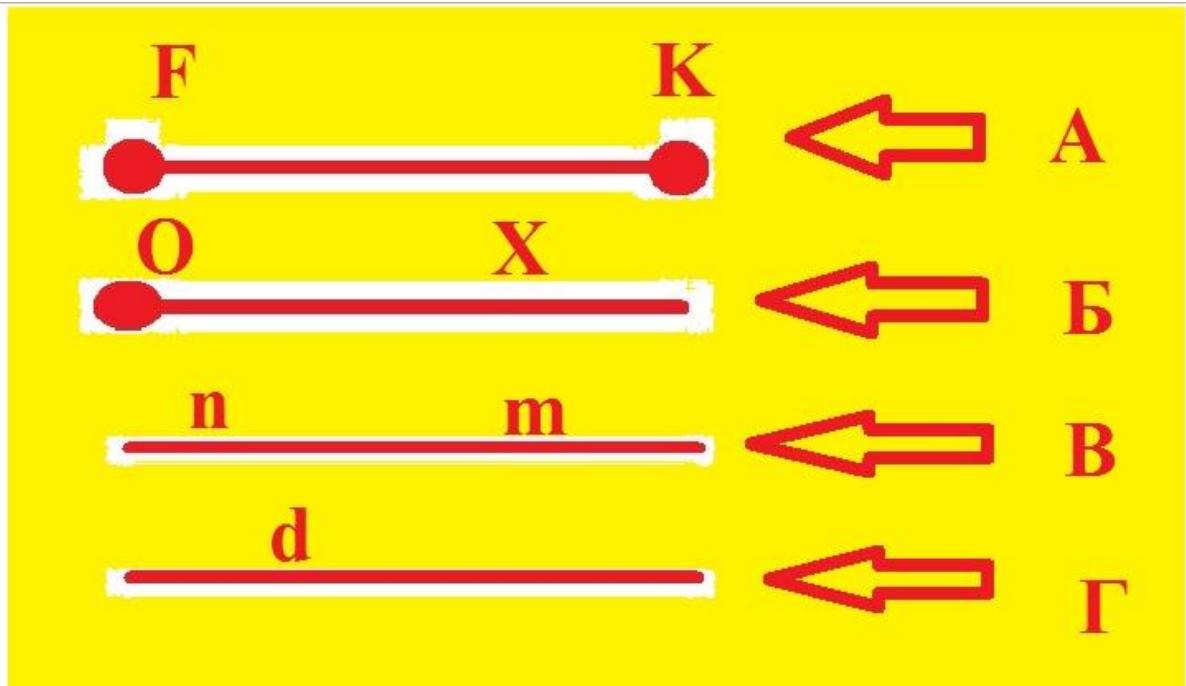
Заєць Б.Б. учениця 11-го класу Білоцерківське навчально-виховне об'єднання ЛІЦЕЙ- Мала Академія Наук

вчитель математики Заєць Богдан Петрович

Білоцерківська загальноосвітня школа І-ІІІ ступенів № 7 ІМЕНІ ГЕНЕРАЛ-ПОЛКОВНИКА ГЕННАДІЯ ВОРОБІЙОВА Білоцерківської міської ради Київської області



Вкажіть координату точки D (ввести число):



Вкажіть відрізок:

☐ Г

☐ А

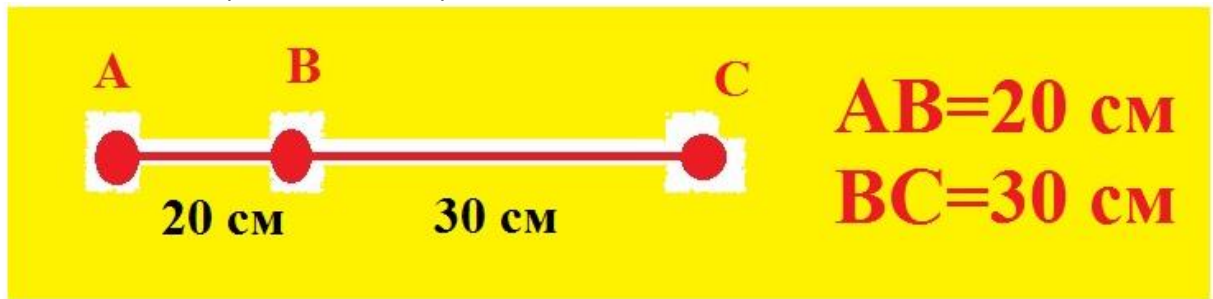
☐ Б

☐ В

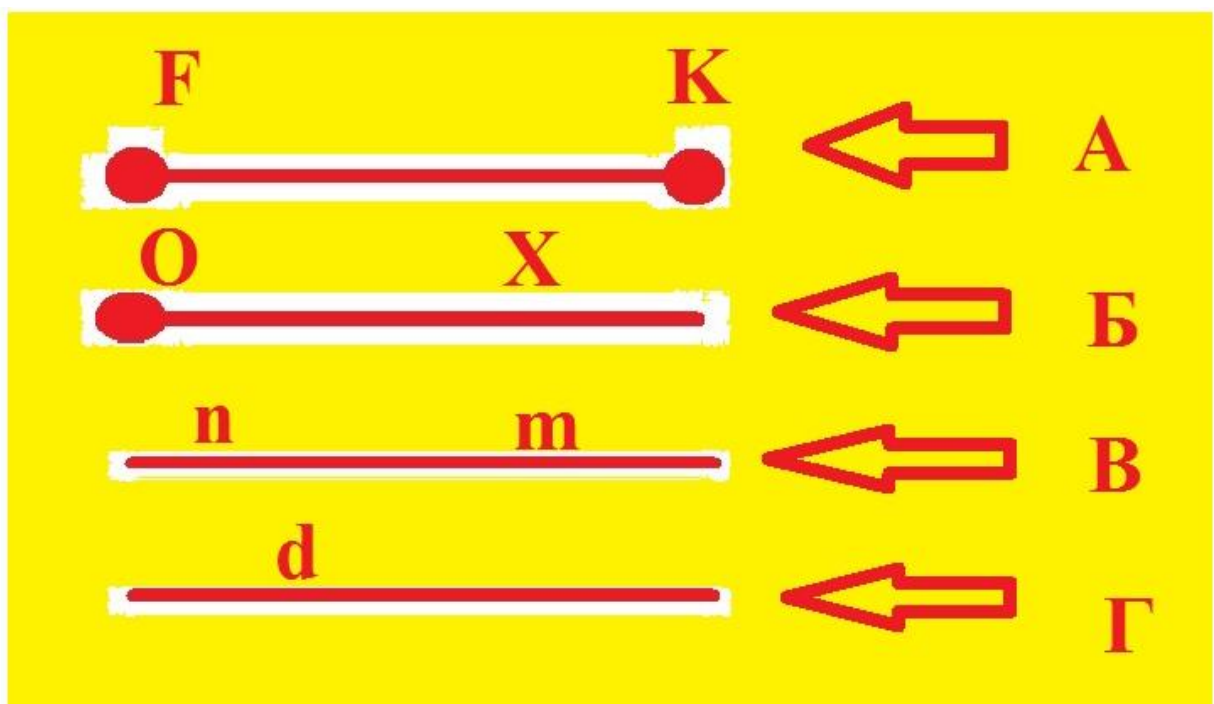
Заєць Б.Б. учениця 11-го класу Білоцерківське навчально-виховне об'єднання ЛІЦЕЙ- Мала Академія Наук

вчитель математики Заєць Богдан Петрович

Білоцерківська загальноосвітня школа І-ІІІ ступенів № 7 ІМЕНІ ГЕНЕРАЛ-ПОЛКОВНИКА ГЕННАДІЯ ВОРОБІЙОВА Білоцерківської міської ради Київської області



Обчисліть довжину відрізка AC (ввести число):



Вкажіть промінь:

☐ А

☐ В

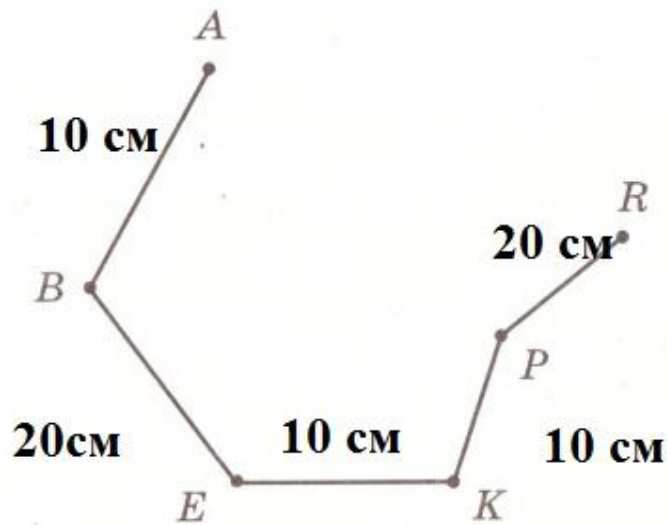
☐ Б

☐ Г

Заєць Б.Б. учениця 11-го класу Білоцерківське навчально-виховне об'єднання ЛІЦЕЙ- Мала Академія Наук

вчитель математики Заєць Богдан Петрович

Білоцерківська загальноосвітня школа І-ІІІ ступенів № 7 ІМЕНІ ГЕНЕРАЛ-ПОЛКОВНИКА ГЕННАДІЯ ВОРОБИЙОВА Білоцерківської міської ради Київської області



AB=10 см

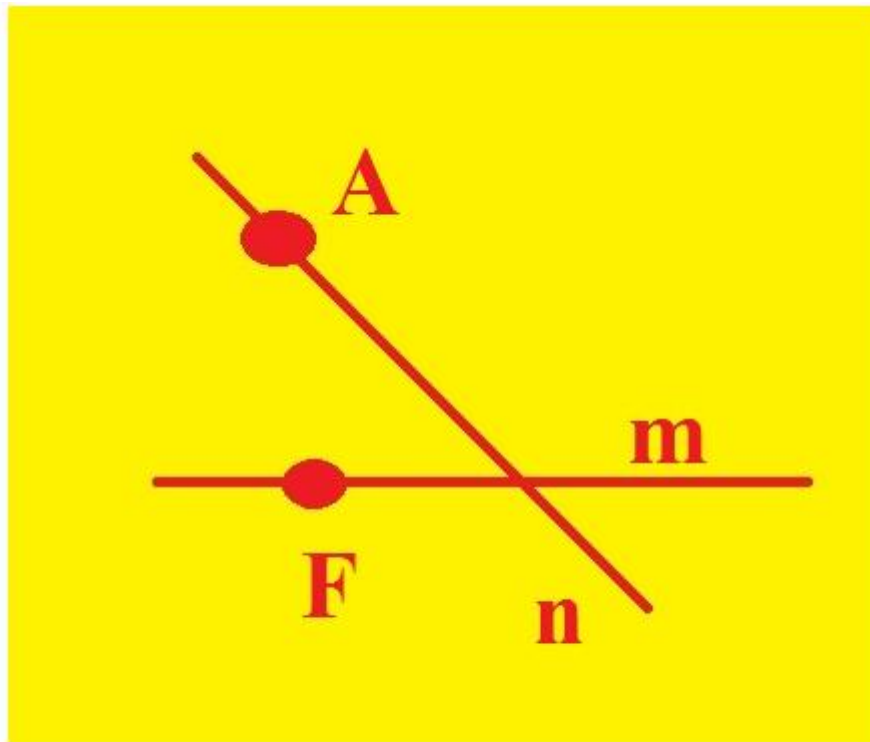
BE=20 см

EK=10 см

KP=10 см

PR=20 см

Обчисліть довжину ламаної (ввести число):



Вкажіть кількість прямих (ввести число):


Заєць Б.Б. учениця 11-го класу Білоцерківське навчально-виховне об'єднання ЛІЦЕЙ- Мала Академія Наук

вчитель математики Заєць Богдан Петрович

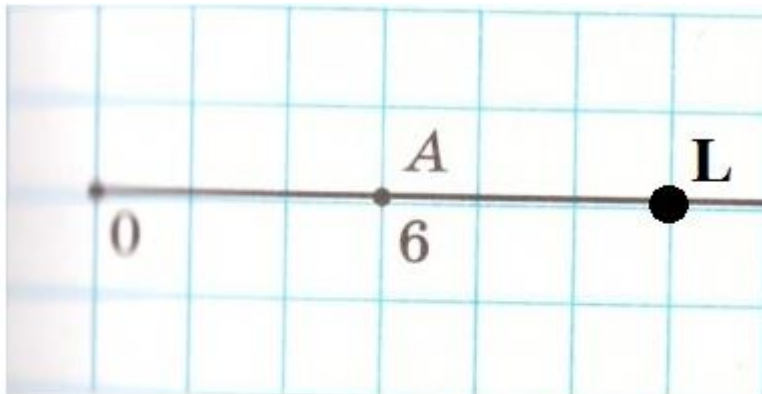
Білоцерківська загальноосвітня школа І-ІІІ ступенів № 7 ІМЕНІ ГЕНЕРАЛ-ПОЛКОВНИКА ГЕННАДІЯ ВОРОБІЙОВА Білоцерківської міської ради Київської області



Вкажіть координату точки В (ввести число):



Вкажіть координату точки С (ввести число):

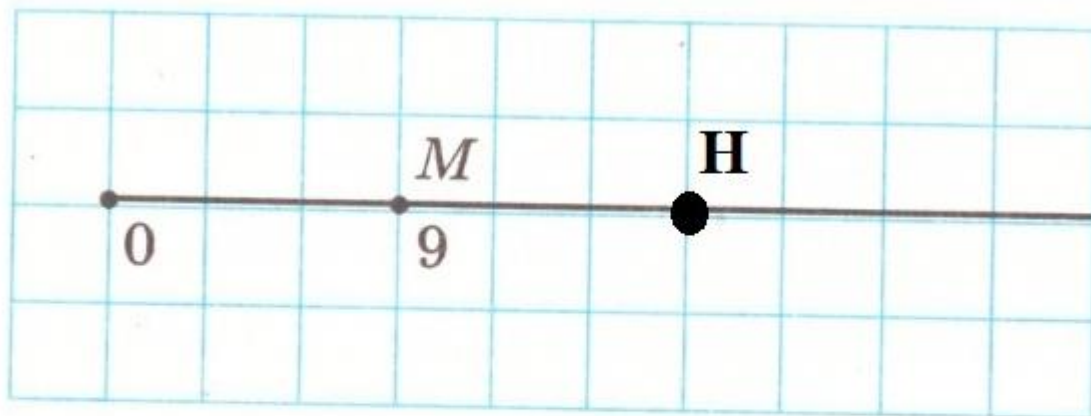


Вкажіть координату точки L (ввести число)

Заєць Б.Б. учениця 11-го класу Білоцерківське навчально-виховне об'єднання ЛІЦЕЙ- Мала Академія Наук

вчитель математики Заєць Богдан Петрович

Білоцерківська загальноосвітня школа І-ІІІ ступенів № 7 ІМЕНІ ГЕНЕРАЛ-ПОЛКОВНИКА ГЕННАДІЯ ВОРОБІЙОВА Білоцерківської міської ради Київської області



Вкажіть координату точки Н (ввести число):